

Variação de parâmetros

8

META:

Descrever o método conhecido por variação de parâmetros usado para resolver equações diferenciais ordinárias lineares não homogêneas.

Além de apresentar o oscilador harmônico.

OBJETIVOS:

Ao fim da aula os alunos deverão ser capazes de:

Aplicar eficazmente o método de variação de parâmetros.

Resolver problemas referentes ao oscilador harmônico.

PRÉ-REQUISITOS

Os conhecimentos da aula 6.

8.1 Introdução

Caros alunos essa é a nossa oitava aula. Na aula de hoje apresentaremos mais um método de resolução de equações lineares. Esse método é destinado a resolver equações lineares não homogêneas, ele é um pouco mais abrangente do que o aprendido na aula anterior pois possibilita resolver equações lineares não homogêneas com coeficientes não constantes quando se conhece uma solução geral da equação homogênea associada.

8.2 Resolvendo equações lineares não homogêneas.

O método que apresentaremos aqui é conhecido por variação de parâmetros.

Considere a E.D.O. linear

$$a_n(x)y^{(n)} + \dots + a_1(x)y' + a_0(x)y = g(x),$$

onde $a_n(x), \dots, a_0(x)$ e $g(x)$ são funções contínuas num intervalo I , com $a_n(x) \neq 0$ em i . Quando $n = 1$ obtemos

$$y' + P(x)y = f(x),$$

onde $P(x) = a_0(x)/a_1(x)$ e $f(x) = g(x)/a_1(x)$. Vimos que a E.D.O. homogênea associada $y' + P(x)y = 0$ tem solução geral dada por $y_c(x) = c_1 y_1(x) = c_1 e^{-\int P(x)dx}$. Para acharmos $y_p(x)$ usaremos o método de variação de parâmetros, o qual consiste em encontrar uma função $u_1(x)$ tal que $y_p(x) = u_1(x)y_1(x)$, onde y_1 é solução da E.D.O. homogênea associada, seja uma solução particular de $y' + P(x)y = f(x)$.

Substituindo $y_p(x) = u_1(x)y_1(x)$ na E.D.O. temos

$$\frac{d}{dx}[u_1 y_1] + P(x)[u_1 y_1] = f(x) \Leftrightarrow y_1 u_1' + u_1 [y_1' + P(x)y_1] = f(x),$$

Como y_1 é solução da E.D.O. homogênea a última igualdade se reduz a

$$y_1 u_1' = f(x) \Rightarrow u_1(x) = \int \frac{f(x)}{y_1(x)} dx.$$

Assim,

$$y_p(x) = y_1 \int \frac{f(x)}{y_1(x)} dx.$$

Logo, a solução geral é

$$y(x) = c_1 e^{-\int P(x)dx} + e^{-\int P(x)dx} \int f(x) e^{\int P(x)dx} dx.$$

Observe que essa expressão é a mesma obtida quando resolvemos, na aula 4, a E.D.O. linear de primeira ordem utilizando fator integrante.

Quando $n = 2$, temos

$$y'' + P(x)y' + Q(x)y = f(x),$$

onde $P(x) = a_1(x)/a_2(x)$, $Q(x) = a_0(x)/a_2(x)$ e $f(x) = g(x)/a_2(x)$.

Suponha que $y_1(x)$ e $y_2(x)$ formam um conjunto fundamental para a E.D.O. homogênea associada

$$y'' + P(x)y' + Q(x)y = 0.$$

Assim, procedendo analogamente ao caso anterior, para acharmos uma solução particular, y_p , da E.D.O. não homogênea tentemos encontrar funções $u_1(x)$, $u_2(x)$ tais que $y_p(x) = u_1(x)y_1(x) +$

$u_2(x)y_2(x)$ seja a soluo particular procurada da E.D.O. no homognea $y'' + P(x)y' + Q(x)y = f(x)$. Derivando y_p , obtemos

$$y'_p = u_1y'_1 + u_2y'_2 + u'_1y_1 + u'_2y_2$$

e

$$y''_p = u''_1y_1 + 2u'_1y'_1 + 2u'_2y'_2 + u_1y''_1 + u''_2y_2 + u_2y''_2.$$

Sustituindo essas expresses na E.D.O. no homognea, temos que

$$y''_p + P(x)y'_p + Q(x)y_p = f(x)$$

 equivalente a

$$\begin{aligned} &u''_1y_1 + 2u'_1y'_1 + 2u'_2y'_2 + u_1y''_1 + u''_2y_2 + u_2y''_2 + P(x)[u_1y'_1 + u_2y'_2 + u'_1y_1 + u'_2y_2] \\ &+ Q(x)[u_1y_1 + u_2y_2] = f(x). \end{aligned}$$

E, organizando, temos

$$\begin{aligned} &u_1[y''_1 + P(x)y'_1 + Q(x)y_1] + u_2[y''_2 + P(x)y'_2 + Q(x)y_2] + P(x)[u'_1y_1 + u'_2y_2] \\ &+ u'_1y_1 + u'_2y_2 = f(x). \end{aligned}$$

Finalmente,

$$P(x)[u'_1y_1 + u'_2y_2] + \frac{d}{dx}[u'_1y_1 + u'_2y_2] + u'_1y_1 + u'_2y_2 = f(x). \tag{8.47}$$

Observe que para obtermos a ltima igualdade usamos o fato de y_1 e y_2 serem solues da E.D.O. homognea associada, ou seja $y''_1 + P(x)y'_1 + Q(x)y_1 = 0$ e $y''_2 + P(x)y'_2 + Q(x)y_2 = 0$.

Como queremos achar duas funes desconhecidas u_1 e u_2 precisamos de duas equaes que as relacionem. Observe que podemos obter essas duas equaes tomando como hipese que

$$u'_1y_1 + u'_2y_2 = 0.$$

Dessa maneira, a equação (8.47) se reduz a

$$u_1' y_1' + u_2' y_2' = f(x).$$

Portanto para acharmos as duas funções u_1 e u_2 basta resolver o sistema

$$u_1' y_1 + u_2' y_2 = 0$$

$$u_1' y_1' + u_2' y_2' = f(x).$$

O sistema acima pode ser resolvido pela regra de Cramer, a qual nos dá

$$u_1' = \frac{W_1}{W}, u_2' = \frac{W_2}{W},$$

onde W é o Wronskiano das funções y_1 e y_2 , ou seja

$$W = \det \begin{pmatrix} y_1 & y_2 \\ y_1' & y_2' \end{pmatrix}.$$

E,

$$W_1 = \det \begin{pmatrix} 0 & y_2 \\ f(x) & y_2' \end{pmatrix}, \quad W_2 = \det \begin{pmatrix} y_1 & 0 \\ y_1' & f(x) \end{pmatrix}.$$

Integrando as expressões obtidas para u_1' e u_2' , obtemos as funções u_1, u_2 procuradas.

Exemplo 8.1. Resolva a E.D.O.

$$y'' + 4y = \sec(x), \quad -\pi/2 < x < \pi/2.$$

Lembre que antes de qualquer cálculo a equação deve ser colocada na forma padrão, como esta já está na forma padrão, prossigamos com os cálculos.

Sabemos que uma solução geral para essa E.D.O. é da forma

$y(x) = y_c(x) + y_p(x)$, onde y_c é a solução geral da E.D.O. homogênea associada e y_p uma solução particular da E.D.O. não homogênea dada. Começemos com a parte homogênea.

Uma vez que a E.D.O. homogênea associada $y'' + 4y = 0$ tem coeficientes constantes, podemos resolvê-la achando as raízes da equação auxiliar

$$m^2 + 4 = 0.$$

Vê-se que as raízes dessa equação auxiliar são complexas, as quais são $m_1 = 2i, m_2 = -2i$. Assim, a solução geral para a E.D.O. homogênea é

$$y_c(x) = c_1 \cos 2x + c_2 \operatorname{sen} 2x.$$

Para resolvermos a parte não homogênea, como a função independente $\sec x$ não é uma função polinomial nem nenhum dos tipos exigidos pelo método dos coeficientes a determinar, temos que usar, neste caso, variação de parâmetros. Dessa maneira, procedamos como foi explicado acima. Suponha que a solução particular procurada seja da forma $y_p(x) = u_1 y_1 + u_2 y_2$, onde y_1, y_2 são as funções que aparecem na solução geral da E.D.O. homogênea, a saber $y_1 = \cos 2x$ e $y_2 = \operatorname{sen} 2x$. Assim, derivando y_p e substituindo na equação, obtemos o seguinte sistema

$$u_1' \cos 2x + u_2' \operatorname{sen} 2x = 0$$

$$-2u_1' \operatorname{sen} 2x + 2u_2' \cos 2x = \sec x.$$

Daí,

$$u_1' = \frac{W_1}{W} = \frac{-\operatorname{sen} 2x \sec x}{2}, \quad u_2' = \frac{W_2}{W} = \frac{\cos 2x \sec x}{2}$$

uma vez que

$$W_1 = \det \begin{pmatrix} 0 & \operatorname{sen} 2x \\ \sec x & 2 \cos 2x \end{pmatrix} = -\operatorname{sen} 2x \sec x,$$

$$W_2 = \det \begin{pmatrix} \cos 2x & 0 \\ -2\operatorname{sen} 2x & \sec x \end{pmatrix} = \cos 2x \sec x$$

e

$$W = \det \begin{pmatrix} \cos 2x & \operatorname{sen} 2x \\ -2\operatorname{sen} 2x & 2 \cos 2x \end{pmatrix} = 2 \cos^2 2x + 2\operatorname{sen}^2 2x = 2.$$

Portanto,

$$u_1 = - \int \frac{\operatorname{sen} 2x \sec x}{2} dx = - \int \operatorname{sen} x dx = \cos x$$

e

$$u_2 = \int \frac{\cos 2x \sec x}{2} dx = \int \frac{1}{2} \cos x dx - \int \frac{1}{2} \frac{\operatorname{sen}^2 x}{\cos x} dx = \frac{1}{2} [2\operatorname{sen} x - \ln |\sec x + \tan x|].$$

Portanto, uma solução geral da E.D.O. dada é

$$y(x) = c_1 \cos 2x + c_2 \operatorname{sen} 2x + \cos 2x \cos x + \operatorname{sen} 2x \left[\operatorname{sen} x - \frac{1}{2} \ln |\sec x + \tan x| \right].$$

8.2.1 Equações de ordem superior

O método também se aplica a E.D.O. linear de ordem superior

$$y^{(n)} + P_{n-1}(x)y^{(n-1)} + \cdots + P_1(x)y' + P_0(x)y = f(x).$$

Se $y_c(x) = c_1 y_1(x) + \cdots + c_n y_n(x)$ é a solução geral para a E.D.O.

homogênea associada, então $y_p(x) = u_1 y_1 + \cdots + u_n y_n$. As funções

$u_i, i = 1, \dots, n$ são obtidas integrando as soluções do sistema

$$\begin{aligned} u_1' y_1 + \cdots + u_n' y_n &= 0 \\ u_1' y_1' + \cdots + u_n' y_n' &= 0 \\ u_1' y_1'' + \cdots + u_n' y_n'' &= 0 \\ &\vdots \\ u_1' y_1^{(n-1)} + \cdots + u_n' y_n^{(n-1)} &= f(x). \end{aligned}$$

Pela regra de Cramer, temos que

$$u'_i = \frac{W_i}{W}, i = 1, \dots, n$$

onde

$$W_i = \det \begin{pmatrix} y_1 & \dots & 0 & \dots & y_n \\ y'_1 & & 0 & & y'_n \\ \vdots & & 0 & & \vdots \\ y_1^{(n-1)} & \dots & f(x) & \dots & y_n^{(n-1)} \end{pmatrix}, i = 1, \dots, n.$$

↑

i-ésima coluna

e,

$$W = \det \begin{pmatrix} y_1 & \dots & y_i & \dots & y_n \\ y'_1 & & y'_i & & y'_n \\ \vdots & & \vdots & & \vdots \\ y_1^{(n-1)} & \dots & y_i^{(n-1)} & \dots & y_n^{(n-1)} \end{pmatrix}, i = 1, \dots, n.$$

Exemplo 8.2. Resolva a E.D.O.

$$y''' + 4y' = \sec 2x.$$

Uma vez que a E.D.O. está na forma padrão, procedamos como no exemplo anterior, calculemos uma soluo geral para a E.D.O. homogênea associada $y''' + 4y' = 0$. A equao auxiliar nesse caso é

$$m^3 + 4m = 0,$$

cujas raízes são $m_1 = 0, m_2 = 2i, m_3 = -2i$. Assim, a soluo geral é dada por

$$y_c(x) = c_1 + c_2 \cos 2x + c_3 \sen 2x.$$

E por variação de parâmetros tentemos obter uma solução particular y_p para essa E.D.O.. Suponha que $y_p = u_1 y_1 + u_2 y_2 + u_3 y_3$, onde $y_1 = 1, y_2 = \cos 2x, y_3 = \operatorname{sen} 2x$. Neste caso, temos que resolver o seguinte sistema

$$\begin{aligned} u_1' + u_2' \cos 2x + u_3' \operatorname{sen} 2x &= 0 \\ 0 - 2u_2' \operatorname{sen} 2x + 2u_3' \cos 2x &= 0 \\ 0 - 4u_2' \cos 2x - 4u_3' \operatorname{sen} 2x &= \sec 2x \end{aligned}$$

Assim, uma vez que

$$W_1 = \begin{vmatrix} 0 & \cos 2x & \operatorname{sen} 2x \\ 0 & -2\operatorname{sen} 2x & 2\cos 2x \\ \sec 2x & -4\cos 2x & -4\operatorname{sen} 2x \end{vmatrix}, \quad W_2 = \begin{vmatrix} 1 & 0 & \operatorname{sen} 2x \\ 0 & 0 & 2\cos 2x \\ 0 & \sec 2x & -4\operatorname{sen} 2x \end{vmatrix},$$

e,

$$W_3 = \begin{vmatrix} 1 & \cos 2x & 0 \\ 0 & -2\operatorname{sen} 2x & 0 \\ 0 & -4\cos 2x & \sec 2x \end{vmatrix}, \quad W = \begin{vmatrix} 1 & \cos 2x & \operatorname{sen} 2x \\ 0 & -2\operatorname{sen} 2x & 2\cos 2x \\ 0 & -4\cos 2x & -4\operatorname{sen} 2x \end{vmatrix}$$

temos que

$$u_1' = \frac{\sec 2x}{4}, u_2' = -1/4, u_3' = -\frac{\tan 2x}{4}.$$

Integrando, obtemos

$$u_1 = \frac{1}{8} \ln |\sec 2x + \tan 2x|, u_2 = -x/4, u_3 = \frac{1}{8} \ln |\cos 2x|.$$

Assim, uma solução geral da E.D.O. dada é

$$y(x) = c_1 + c_2 \cos 2x + c_3 \operatorname{sen} 2x + \frac{1}{8} \ln |\sec 2x + \tan 2x| - \frac{x}{4} \cos 2x + \frac{1}{8} \operatorname{sen} (2x) \ln |\cos 2x|.$$

8.3 Modelagem matemática em E.D.O. lineares de ordem superior com coeficientes constantes

8.3.1 O oscilador harmônico

Estudamos na aula 1 que a equação diferencial que modela o movimento de um corpo de massa m preso a uma mola considerando a inexistência de forças de amortecimento e de forças externas é

$$\ddot{x} = -\frac{k}{m}x,$$

onde k é a constante de elasticidade da mola e m é a massa do corpo preso a mola. Aqui trataremos desse problema com mais detalhes.

Oscilador harmônico livre não amortecido.

Consideremos um corpo de massa m preso a uma mola, cuja constante de elasticidade é k , livre de amortecimentos e forças externas. Se o corpo ao ser preso na mola deslocou-a s unidades de comprimento, segundo a lei de Hooke sabemos que a mola exercerá uma força restauradora proporcional ao deslocamento sofrido e oposta ao mesmo, ou seja, $F_{rest} = ks$. Ao deslocar a mola s unidades de comprimento o corpo se encontra parado e dizemos que o sistema massa-mola se encontra em equilíbrio, ou seja, a força peso é igual a força restauradora da mola, $mg = ks$.

A força exercida pela mola terá sinal negativo, pois ela age no sentido oposto ao movimento. Convencionaremos que os deslocamentos medidos abaixo da posição de equilíbrio serão positivos e os acima serão negativo, como mostra a figura abaixo.

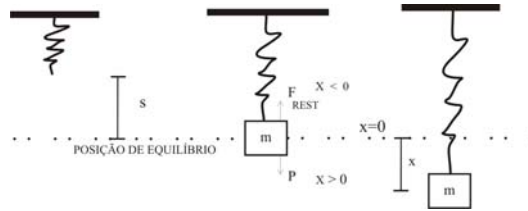


Figura 8.1: Sistema massa-mola.

Num certo instante de tempo t o corpo é puxado para baixo distendendo a mola $x(t)$ unidades de comprimento, a qual foi solta em seguida. Pela segunda lei de Newton esse movimento obedece a seguinte equação $mg - k(s + x) = m\ddot{x}$, onde mg é a força peso e $k(s + x)$ é a força restauradora da mola quando esta é distendida de s unidades (quando o corpo foi presso à mola, lembre que $ks = mg$) mais x unidades quando o corpo foi puxado para baixo. Assim, obtemos a seguinte equação diferencial

$$m \frac{d^2x}{dt^2} = mg - k(x + s) = -kx$$

ou podemos escrever a equação que modela o movimento do corpo livre de amortecimento e forças externas da seguinte maneira

$$\frac{d^2x}{dt^2} + w^2x = 0, \quad (8.48)$$

onde $w^2 = k/m$. Esse movimento é chamado **movimento harmônico simples ou movimento livre não amortecido**. Observe que a equação (8.48) é uma equação de segunda ordem do tipo linear homogênea. Assim, ao resolvermos a equação auxiliar encontramos duas raízes complexas dadas por $m_1 = wi$, $m_2 = -wi$. Portanto, a solução geral de (8.48) é

$$x(t) = c_1 \cos wt + c_2 \operatorname{sen} wt, \quad w = \sqrt{k/m}. \quad (8.49)$$

Observe que $x(t)$   uma funo peridica, de per odo $T = \frac{2\pi}{w}$ e, conseq entemente, sua frequ ncia   $f = 1/T = \frac{w}{2\pi}$. (observe que como $w^2 = k/m$ dever amos ter $w = \pm\sqrt{k/m}$ matematicamente falando, contudo w tem um significado f sico e, por isso, adotaremos w sempre positivo.)

Se $c_1 = 0$ ou $c_2 = 0$ podemos facilmente traar o grfico da soluo obtida e, dessa maneira, podemos extrair mais informaes sobre a soluo. Contudo, se $c_1 \neq 0$ e $c_2 \neq 0$ extrair algumas informaes se torna um pouco mais dif cil. A fim de contornar tal fato, podemos escrever a soluo (8.49) de uma outra forma. Dessa maneira, afirmamos que a equao (8.49) pode ser escrita na forma

$$x(t) = A \operatorname{sen}(wt + w_0), \tag{8.50}$$

onde $A = \sqrt{c_1^2 + c_2^2}$ e $\operatorname{sen} w_0 = \frac{c_1}{A}$, $\cos w_0 = \frac{c_2}{A}$. De fato, sabemos que $A \operatorname{sen}(wt + w_0) = A[\operatorname{sen} wt \cos w_0 + \operatorname{sen} w_0 \cos wt]$. Assim, a fim de que

$$c_1 \cos wt + c_2 \operatorname{sen} wt = A[\operatorname{sen} wt \cos w_0 + \operatorname{sen} w_0 \cos wt]$$

temos

$$A \cos w_0 = c_2, \quad A \operatorname{sen} w_0 = c_1.$$

Logo, da relao acima conclu mos que as constantes A e w_0 so tais que $A = \sqrt{c_1^2 + c_2^2}$ e $\operatorname{sen} w_0 = \frac{c_1}{A}$, $\cos w_0 = \frac{c_2}{A}$.

Portanto, da expresso (8.50)   fcil ver que a amplitude de movimento do corpo presso   mola   A . Conclu mos que o movimento de um corpo de massa m presso a uma mola de constante elstica k livre de amortecimento e sem fora externa   peridico, de per odo $T = 2\pi\sqrt{m/k}$ e a amplitude mxima desse corpo  

Amplitude de movimento do corpo presso   mola   a maior distncia do corpo a sua posio de equil brio.

$A = \sqrt{c_1^2 + c_2^2}$, ou seja, um corpo nessas condições tenderá a oscilar indefinidamente periodicamente. Abaixo apresentamos o gráfico que descreve o movimento do corpo ao longo do tempo, onde a amplitude de movimento é 5 e período igual a 2π . O gráfico da direita está defasado 2 unidades de tempo, ou seja, $w_0 = 2$. No gráfico da esquerda $w_0 = 0$

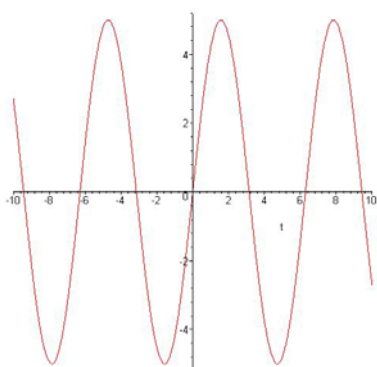


Figura 8.2: Movimento livre não amortecido

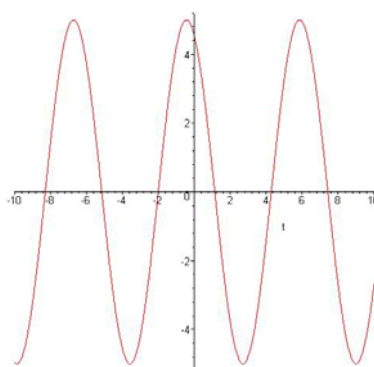


Figura 8.3: Movimento livre não amortecido com defasagem de 2 unidades de tempo.

Considerando o gráfico da esquerda como exemplo, observe que os pontos onde o gráfico corta o eixo horizontal (eixo do tempo t) nos mostram os momentos em que o corpo de massa m passa pela posição de equilíbrio, $x = 0$, os pontos do gráfico que estão abaixo do eixo t (ordenada negativa) são os pontos cujas ordenadas nos dão a posição do corpo acima da posição de equilíbrio, são as posições correspondentes a compressão da mola e, os pontos do gráfico que estão acima do eixo t (ordenada positiva) são os pontos cujas as ordenadas nos dão a posição do corpo abaixo da

posição de equilíbrio, são as posições correspondentes à distensão da mola.

Oscilador harmônico livre amortecido.

Nesse caso consideramos a situação anterior sujeita a um amortecimento seja ele causado pelo vento, pelo atrito com alguma superfície ou por outro motivo qualquer. Na física as forças de amortecimento que atuam em um corpo são, em geral, proporcionais a uma potência da velocidade instantânea. Aqui, consideraremos que a força de amortecimento é proporcional a potência unitária da velocidade, ou seja, a força de amortecimento tem a expressão $\gamma \frac{dx}{dt}$, onde γ é uma constante. Assim, a equação de movimento para esse caso é

$$m \frac{d^2x}{dt^2} = -kx - \gamma \frac{dx}{dt}.$$

(O sinal negativo na força de amortecimento ou atrito deve-se ao fato que forças de atrito são forças contrárias ao movimento.) Assim, organizando a equação acima obtemos a seguinte equação, a qual modela o movimento do corpo com amortecimento mas livre de forças externas

$$\frac{d^2x}{dt^2} + 2\delta \frac{dx}{dt} + w^2x = 0, \quad 2\delta = \gamma/m, \quad w^2 = k/m. \quad (8.51)$$

Esse movimento é denominado por **movimento livre amortecido**. Observe que essa E.D.O. é também uma E.D.O. linear homogênea e, desta maneira, sua solução geral é obtida por meio do cálculo das raízes da equação auxiliar

$$m^2 + 2\delta m + w^2 = 0,$$

a qual nos dá $m_1 = -\delta + \sqrt{\delta^2 - w^2}$ e $m_2 = -\delta - \sqrt{\delta^2 - w^2}$. Assim, teremos três tipos de solução, a depender se $\delta^2 - w^2$ é maior, igual ou menor do que zero. Começemos com o caso $\delta^2 - w^2 > 0$.

CASO I: $\delta^2 - w^2 > 0$

Se $\delta^2 - w^2 > 0$ temos $m_1 = -\delta + \sqrt{\delta^2 - w^2}$ e $m_2 = -\delta - \sqrt{\delta^2 - w^2}$ números reais e, nesse caso, pelo exposto na aula anterior, a solução geral é dada por

$$x(t) = e^{-\delta t} [c_1 e^{\sqrt{\delta^2 - w^2} t} + c_2 e^{-\sqrt{\delta^2 - w^2} t}].$$

Esse caso é chamado movimento livre superamortecido.

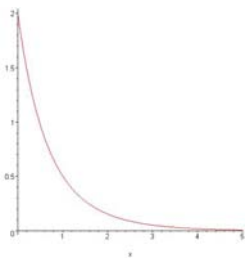


Figura 8.4: Movimento livre superamortecido $y(x) = e^{-x} + e^{-2x}$.

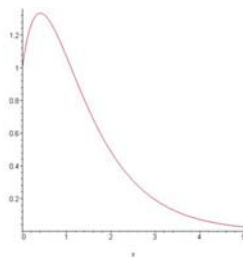


Figura 8.5: Movimento livre superamortecido $y(x) = 4e^{-x} - 3e^{-2x}$.

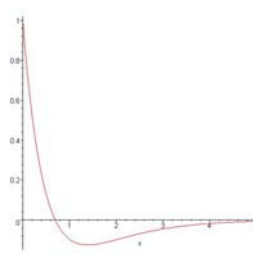


Figura 8.6: Movimento livre superamortecido $y(x) = -e^{-x} + 2e^{-2x}$.

CASO II: $\delta^2 - w^2 = 0$

Se $\delta^2 - w^2 = 0$, temos $m_1 = m_2 = -\delta$. Assim, pelo conteúdo da aula anterior, a solução geral é

$$x(t) = c_1 e^{-\delta t} + c_2 t e^{-\delta t}.$$

Esse caso é chamado **movimento criticamente amortecido**.

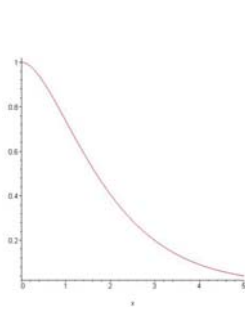


Figura 8.7: Movimento livre criticamente amortecido $y(x) = e^{-x} + xe^{-x}$.

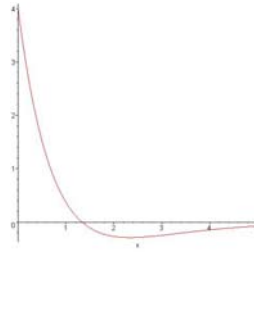


Figura 8.8: Movimento livre criticamente amortecido $y(x) = 4e^{-x} - 3xe^{-x}$.

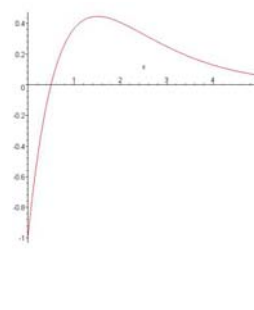


Figura 8.9: Movimento livre criticamente amortecido $y(x) = -e^{-x} + 2xe^{-x}$.

E, finalmente

CASO III: $\delta^2 - w^2 < 0$

Se $\delta^2 - w^2 < 0$, temos $m_1 = -\delta + i\sqrt{w^2 - \delta^2}$, $m_2 = \delta - i\sqrt{w^2 - \delta^2}$.

Assim, pelo conteúdo da aula anterior, a solução geral é

$$x(t) = e^{-\delta t} [c_1 \cos \sqrt{w^2 - \delta^2} t + c_2 \text{sen} \sqrt{w^2 - \delta^2} t].$$

Esse caso é chamado **movimento subamortecido**.

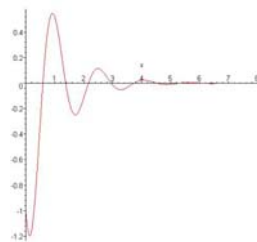


Figura 8.10: Mov. livre subamortecido $y(x) = e^{-x} [-\cos 4x - \text{sen} 4x]$.

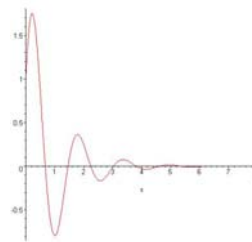


Figura 8.11: Mov. livre subamortecido $y(x) = e^{-x} [\cos 4x + 2\text{sen} 4x]$.

Oscilador harmônico forçado.

Consideremos agora uma força externa agindo sobre o corpo de massa m . Aqui cabe observar que se esta força for a favor do movimento ela entrará nas equações com sinal positivo, caso contrário o sinal será negativo. Podemos, por exemplo, pensar nessa força externa como sendo uma força periódica que uma pessoa faz puxando o corpo para baixo toda vez que ele passar pela posição de equilíbrio. De qualquer forma, seja qual for a força externa exercida, a equação diferencial de movimento do corpo se considerarmos além da força externa, a força de amortecimento será $m \frac{d^2x}{dt^2} = -kx - \gamma \frac{dx}{dt} + f(t)$. Organizando a equação, obtemos

$$\frac{d^2x}{dt^2} + 2\delta \frac{dx}{dt} + w^2x = F(t),$$

onde $2\delta = \gamma/m$, $w^2 = k/m$, $F(t) = f(t)/m$. Se o sistema sofrer a ação de uma força externa, mas for livre de forças de amortecimento, teremos a equação

$$\frac{d^2x}{dt^2} + w^2x = F(t).$$

Note que as equações acima são do tipo linear de segunda ordem não homogênea. Assim, se a função $F(t)$ for do tipo polinomial, exponencial ou das formas $\operatorname{sen} ax$, $\operatorname{cos} ax$ ou combinação desses, podemos usar coeficientes a determinar para achar uma solução geral, caso contrário a única opção que resta é tentarmos resolver por variação de parâmetros.

8.4 Conclusão

Da aula de hoje, concluímos que podemos resolver quaisquer equações diferenciais lineares não homogêneas, bastando para isso conhecermos a solução geral da equação homogênea associada. Para acharmos a solução particular da E.D.O. não homogênea usamos um método conhecido por variação de parâmetros.

RESUMO

..

Na aula de hoje aprendemos o método conhecido por variação de parâmetros, cujo objetivo é encontrar uma solução particular da E.D.O. linear não homogênea. As equações lineares estão ligadas a vários problemas reais, nesta aula também estudamos detalhadamente o oscilador harmônico como uma aplicação para tais equações.



PRÓXIMA AULA

..

Até agora só aprendemos a resolver E.D.O.'s lineares homogêneas com coeficientes constantes. Em nossa próxima aula veremos como resolver um tipo especial de equações lineares com coeficientes variáveis: a Equação de Cauchy-Euler.



ATIVIDADES

..

Atividade. 8.1. Resolva cada equação usando variação de parâmetros

a) $y'' + y = \sec x$

b) $y'' + y = \cos^2 x$

c) $y'' - 4y = \frac{e^{2x}}{x}$

d) $y'' + 2y' - 8y = 2e^{-2x} - e^{-x}, y(0) = 1, y'(0) = 0$

e) $y''' + y' = \operatorname{tg} x.$

Atividade. 8.2. Uma mola está presa ao teto. Quando uma massa de 30kg é atada à mola, esta distende-se em 12 cm. A



massa   removida e uma pessoa segura a extremidade da mola e comea a balanar para cima e para baixo com um perodo de 1 segundo. Qual o peso dessa pessoa?

Atividade. 8.3. Um peso de 0,5 kg   atado a uma mola de 1,5 m de comprimento. Na posio de equilbrio, o comprimento da mola   de 2,48 m. Se o peso for suspenso e solto a partir do repouso de um ponto 2 m acima da posio de equilbrio, encontre o deslocamento $x(t)$ se   sabido ainda que o meio ambiente oferece resist ncia numericamente igual   velocidade instant nea. Clas-sifique o sistema em amortecido, sub ou super amortecido. D  a amplitude desse movimento.

Atividade. 8.4. Uma massa de 2 kg   atada a uma mola cuja constante vale 32 N/m. Uma fora igual a $f(t) = 68e^{-2t} \cos 4t$ atua no sistema a partir de $t = 0$. Encontre a equao de movimento na aus ncia de atrito.

Atividade. 8.5. Uma massa de 0,5 kg   atada a uma mola que tem constante de elasticidade igual a 6 N/m. A massa parte do repouso 2 m abaixo da posio de equilbrio e o movimento subsequente est  sujeito a uma fora de amortecimento igual a metade da velocidade instant nea. Encontre a equao de movimento se o peso sofre a ao de uma fora externa igual a $f(t) = 10 \cos 3t$.



LEITURA COMPLEMENTAR

..

BRAUM, Martin, Differential Equations and their applications. Springer, 1992.

FIGUEIREDO, Djairo Guedes, Equaoes Diferenciais Aplicadas. Coleo matem tica universit ria. IMPA, 2007.

ZILL, Dennis G., Equações Diferenciais com aplicações em modelagem. Thomson, 2003.

8.5 Referências Bibliográficas

KREIDER, KULLER, OSTBERG, Equações Diferenciais, USP, 1972.

ZILL, Dennis G., Equações Diferenciais com aplicações em modelagem. Thomson, 2003.